



Opisz Siebie:

Podaj swoje indiańskie imię (np. Wilk wyjący po deszczu):_

Jakbyś był/a książką to jaki nosiłbyś/nosiłabyś tytuł:

Jakbyś był/a rzeką to gdzie byś płynął/płynęła:

Twoja szkoła/praca jest chora a Ty jesteś lekarzem, jakie lekarstwa, zabiegi jej przypiszesz?

Najoryginalniejszy błąd (największa bzdura), przez Ciebie popełniony?

Gdybyś był Kubusiem Puchatkiem – jaką przygodę byś dziś przeżywał?

Jesteś bilansem otwarcia sporządzonym na dzisiejszy dzień w człowieku „Moje Ja – spółka organiczna”, uzupełnij tabelkę:

AKTYWA	PASYWA
Myśli trwałe:	Myśli własne:
Myśli obrotowe:	Myśli zapożyczone:
Razem:	Razem:

Opisz kreatywność:

Gdyby miała smak, to jaki?

Gdyby miała kolor, to jaki?

Gdyby miała kształt to jaki (narysuj):

Gdyby miała dźwięk, to jaki?



Gdyby mogła mówić, co by mówiła?

Jak można z niej korzystać na co dzień ?

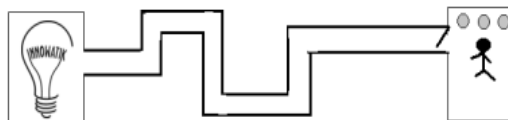
**Rozwiąż zadania od 10 do 1****10. Test F - Policz litery „f” w tekście przeczytaj go staraj się ze zrozumieniem tylko raz i zapisz uzyskaną sumę:**

„The necessity of taining farmhands for first class farms in the fatherly handling of farm livestock is foremost in the minds of farm owners. Since the forefathers of the farm owners trained the farmhands for first class farms in the fatherly handling of farm livestock, the farm owners feel they should carry on with the family tradition of training farmhands of first class farms in the fatherly handling of farm livestock because they believe it is basis of good fundamental farm management.

uzyskana suma:

9. Narysuj cztery łączące się ze sobą linie proste, przechodzące przez wszystkie 9 punktów.**8. Jak poradzisz sobie z czterema to spróbuj za pomocą trzech linii?****7. Gdy trzy linie zdały Ci się banalne wymyśl sposób na połączenie ich za pomocą jednej linii?****6. Zbyt łatwe?? – Zastanów się jak je połączyć nie używając w ogóle linii?**

5. Zamykające się drzwi: Mamy dwa pomieszczenia połączone dość długim pozaginany korytarzem. Oba pomieszczenia są niewielkie w zasadzie prawie nic w nich nie ma. Znajdujemy się w pierwszym pomieszczeniu, w którym są tylko trzy włączniki. W drugim pomieszczeniu zwiisa z sufitu żarówka. Możemy przejść z pierwszego pomieszczenia do drugiego, ale wrócić się nie możemy (drzwi się zatrzasują po przejściu i już nie otwierają ztej strony). W jaki sposób stwierdzić, który z 3 włączników włącza żarówkę, jeśli z pierwszego pomieszczenia nie widać, czy żarówka świeci się w drugim?


**4. Jak obrać cebulę i nie uronić przy tym ani jednej lzy?**

3. Zabawa w ogrodnika: Dostałeś 20 drzew i zadanie aby posadzić je w 5 rzędach po 4 drzewa w każdym, 10 drzewek wzięłeś do domu bo były bardzo ładne, a resztę posadziłeś tak jak Ci kazano. Narysuj sposób w jaki zasadziłeś te 10 drzewek w pięciu rzędach po 4 drzewka w każdym?

Twoja ziemia:

2. Oszust: Znajdź błąd w poniższym rozumowaniu:

1. 1 zł = 1 zł
2. 1 zł = 100 gr
3. 10 gr = 0.1 zł
4. 100 gr = 10 gr * 10 gr
5. 1 zł = 0.1 zł * 0.1 zł
6. 1 zł = 0.01 zł
7. 1 zł = 1 gr



1. Koński Biznes: Chłop kupił na targu konia, za którego zapłacił 1000 zł. Potem się rozmyślił i odsprzedał go za 1100 zł. Jeszcze tego samego dnia stwierdził, że koń jednak by mu się przydał, więc ponownie kupił to samo zwierzę – tym razem za 1200 zł. Jednak po chwili nadarzyła się okazja do zysku, więc odsprzedał tego konia za 1300 zł. Czy chłop zarobił na tym handlu, czy stracił? Jaki był końcowy wynik tych transakcji?